

-----サンプル版-----

**香川県立
高松北中学
＜適性検査Ⅰ・Ⅱ＞
過去問徹底対策テキスト**

あなたが他の人と力を合わせておこなったことの中で、心に残っている体験について、内容をわかりやすく説明し、どのような点が心に残っているのかを、四百字以内にまとめて書きなさい。

(注意)

- 一 氏名は書かないようにして、原こう用紙の一行目から書き始めなさい。
- 二 作文の中に、氏名や小学校名は書かないようにしなさい。

作文を書くときは、下書きをしてください。

空いているところに自分が書きたいことをキーワードでどんどんあげていくのがいいです。

それをつないでいってひとつの作品にしてください。

しっかり落とさずていねいに問いにこたえる形で書いてください。

今回の場合、①あなたが、②他の人と力を合わせて、③おこなったこと、④心に残っている『体験』、⑤内容をわかりやすく、⑥説明し、⑦どのような点が、⑧心に残っているのか

この8つを落とさず書くことです。

ちなみに今回は④『体験』です。思ったこと、考えたことではありません。③にもあげたとおり「おこなった」ことです。フィクション・空想などはだめです。

注意事項もしっかり気をつけて！

あなたが、②他の人と力を合わせて、③おこなったこと、④心に残っている『体験』、⑤内容をわかりやすく、⑥説明し、⑦どのような点が、⑧心に残っているのか

解答例・パターン

私が他の人と力を合わせておこなったこととして心に残っているのは、です。

これはのとき、みんなでをし、私もいっしょになってやりとげた〜〜でした。

この体験は、私にとって、

という点から、私のこの体験はずっと心に残っています。

これから私はこの体験を通じて、やっていきたいと思います。

小学6年まででいろんな体験をしているでしょう。

その中で、いいこと・よくなかったこと・もっとこうしたかったこと・これからもこんなことがあったら私がんばっていききたいと思えることなど、あつく書いてください。

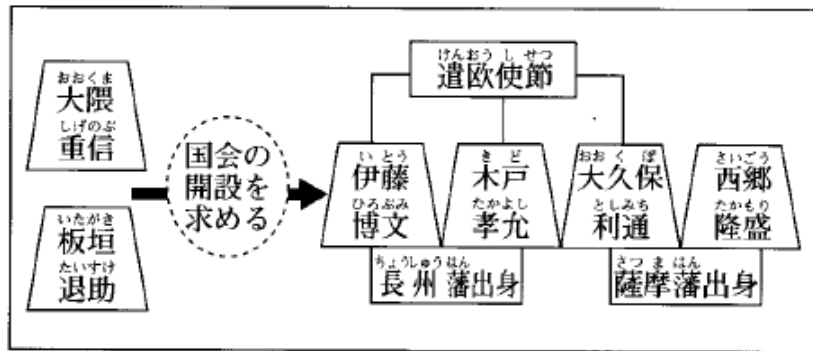
ボランティア・地域への協力・親の仕事のてつだいなどたくさんあると思います。

あなたがやってきた中で、あなたが自分でもみんなとよくやったなと思えることを書けば文章はあつく、いいものになります。

ことわざのときの作文の注意点をふまえて、しっかりおもいのたけを書きましょう。

問題C けんいちさんは、次の図のように、ある時代の日本の政治に関する人物関係図を作り、発表することになりました。これについてあとの問いに答えなさい。

タイトル： 人たち



●大久保利通から

西郷隆盛への手紙

アメリカやヨーロッパの国々を訪れて、いろいろ珍しいものを見物しています。大きな都市で工場のないところはなく、……機械は精巧*をきわめています。……イギリスが強国となった理由を見たように思います。

*こまかくて巧みにできていること

1 この人物関係図に、時代の流れなどを考えて、適切なタイトルをつけなさい。

西郷さんや伊藤博文、大隈重信、板垣退助ときたら、江戸時代の終わりごろ～明治時代とわかります。

点線の○の国会の開設を求めるということは、明治のまだ初めのころです。

ペリーが黒船でやってきて、江戸時代が薩摩や長州によって終了し、明治維新で一気にアメリカやヨーロッパの発展ぶりを見習って近代化していこうというときにガンガン活躍していた人たちです。

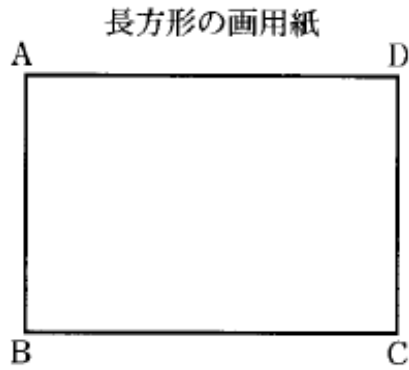
明治時代の日本の政治をになった人たち

明治維新で活躍し日本の政治を動かした人たち

などタイトルなので短めがいいでしょう。

問題C


- 1 次の図のような長方形の画用紙があります。この画用紙に線をひいて4つに分けるとき、その4つを同じ大きさ(面積)にするには、画用紙にどのように線をひけばよいですか。例以外に2つ考え、図に線をかき入れなさい。また、どのように線をひいたのか、その説明も書きなさい。




(編集部注：実際には、解答用紙に同じ図が2つあります。)

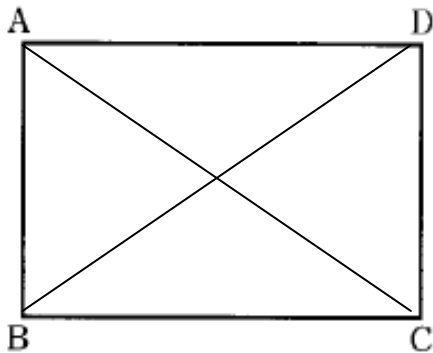
例

(説明) たてに同じ間かくで3本の線をひく。	(説明) 辺ABと辺DCを同じ間かくで4つに分け、それぞれを線で結ぶ。

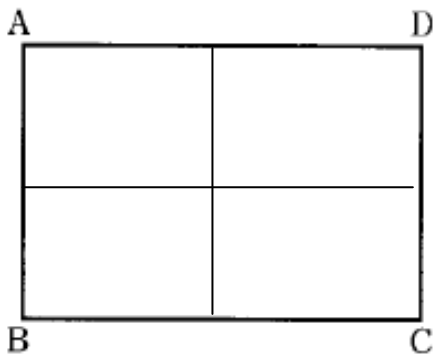




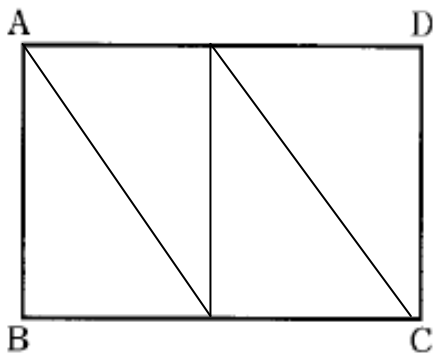
何本引いても OK です。



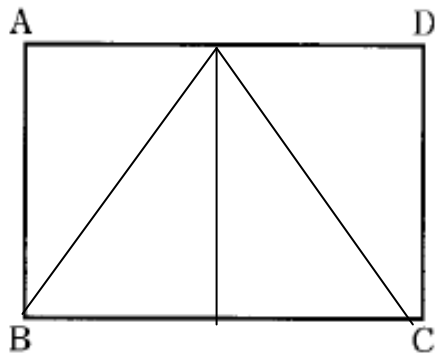
A から C、B から D へ対角線を 2 本引く。




AD の半分から垂直にたてに 1 本、AB の半分から垂直によこに 1 本引く。



AD のまんなかに垂直にたてに 1 本、左右の長方形の左上から右下へななめの線を 1 本ずつ引く。



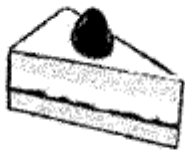
ADのまんなかに垂直にたてに1本、ADのまんなかの点からBとCへななめに2本引く。



ABの4分の1のところまで横に1本、ADを3等分し、たてに2本引く。

などいろいろあります。

- 2 ある店では、ケーキ1個200円、プリン1個150円、シュークリーム1個100円で売っています。その店で、ケーキ、プリン、シュークリームをそれぞれ1個以上、全部で8個買うことにしました。これについて、あとの(1)、(2)の問いに答えなさい。



ケーキ 200円



プリン 150円



シュークリーム 100円

学習塾ラギースは、“**小中学生のための受験対応**”学習塾です。

『**適性教室**』は、適性検査の過去問を徹底して詰め込む4名までの指導教室です。

『**算数教室**』は、16～17時まで、宿題や補習・復習をする教室です。

『**宅建講座**』は、大学生・大人対象の宅建合格を目指した講座です。

ラギース出版発刊テキストのお知らせ

- ・適性検査テキスト 《操山・大安寺・倉敷天城・高松北・愛媛・高知・徳島・山口・福山》
- ・宅建民法テキスト 《民法総則・物権・債権総論・債権各論等 全4冊》

その他順次、各地の適性検査テキストや法律テキストを発刊していきます。

ブログ等にてご確認ください。

～～～ご意見をお聞かせください。～～～

ご愛読いただきありがとうございました。誤字々脱字々間違いなどお寄せください。また、読んでみたい資格や小中学の科目勉強などのテーマがございましたら、ぜひ積極的にお知らせください。

今後の出版に反映させていただきます。

mail : atsub@hotmail.co.jp

著者略歴

大学卒業後、資格取得学校にて勤務。大学時代の家庭教師、塾講師の体験を経て、現在、岡山にて学習塾ラギースを開校。

資格：行政書士、宅建、漢字検定2級、貸金業取扱主任者、FP3級

高松北中学受検適性全対策テキスト

2013年7月18日 初版発行

著者 沢良木 敦